

แบบฝึกหัด 7.2

8.7 คณิตศาสตร์

1 เขียนทศนิยมแสดงส่วนที่ระบายสี

1)



ตัวเลข

ตัวหนังสือ


2)



ตัวเลข

ตัวหนังสือ

3)

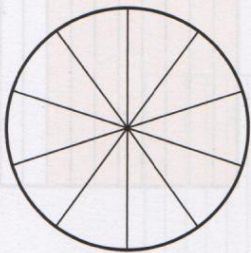


ตัวเลข

ตัวหนังสือ

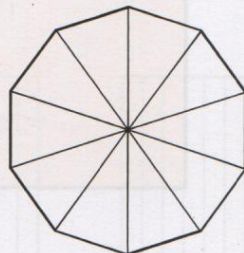
2 ระบายสีแสดงทศนิยม พร้อมเขียนตัวหนังสือ

1) 0.2



ตัวหนังสือ

2) 0.9



ตัวหนังสือ

3 เขียนในรูปทศนิยม

1) $\frac{7}{10} = \dots\dots\dots$

2) $\frac{5}{10} = \dots\dots\dots$