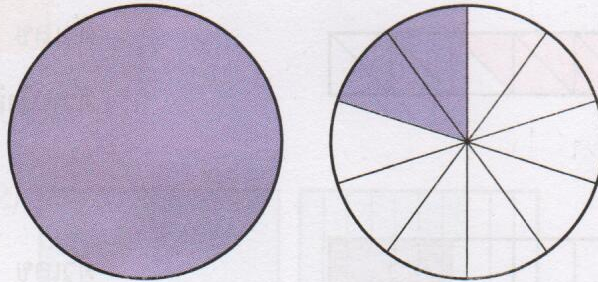


# แบบฝึกหัด 7.3

1 เขียนทศนิยมแสดงส่วนที่ระบายสี

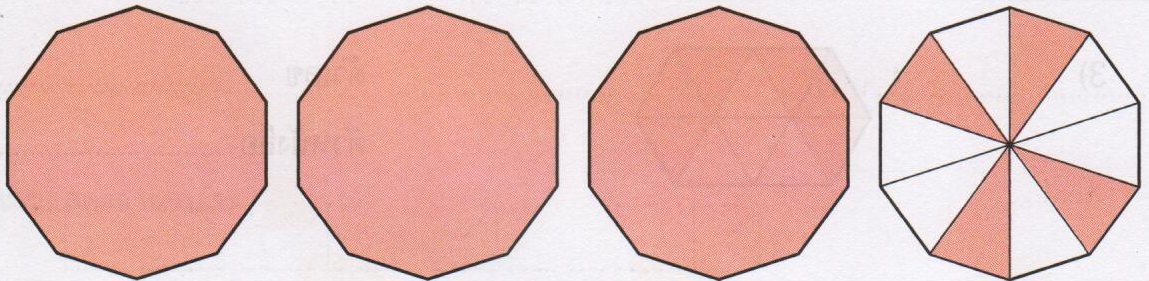
1)



ตัวเลข .....

ตัวหนังสือ .....


2)



ตัวเลข .....

ตัวหนังสือ .....


3)



ตัวเลข .....

ตัวหนังสือ .....

4)



ตัวเลข .....

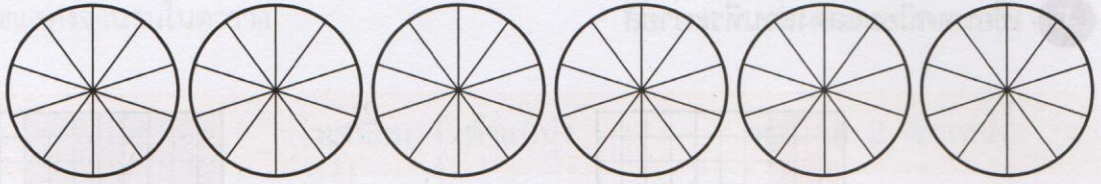
ตัวหนังสือ .....



2 ระบายสีแสดงทศนิยม พร้อมเขียนตัวหนังสือ

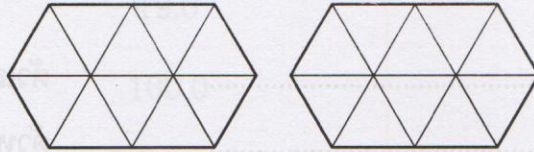
8.7 คณิตประถม

1) 4.5



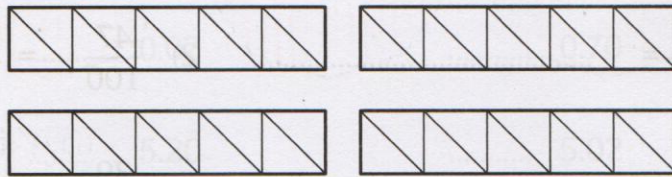
ตัวหนังสือ .....

2) 1.8




ตัวหนังสือ .....

3) 3.0



ตัวหนังสือ .....

4) 2.9



ตัวหนังสือ .....

3 เขียนในรูปทศนิยม

1)  $\frac{36}{10} = \dots\dots\dots$

2)  $\frac{794}{10} = \dots\dots\dots$

3)  $\frac{208}{10} = \dots\dots\dots$

4)  $\frac{3145}{10} = \dots\dots\dots$