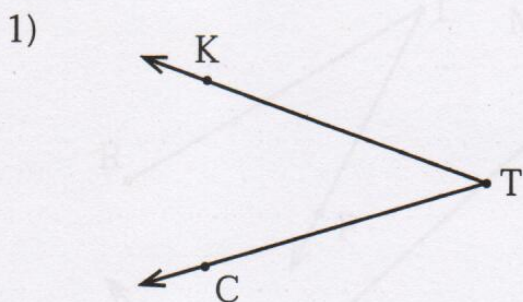
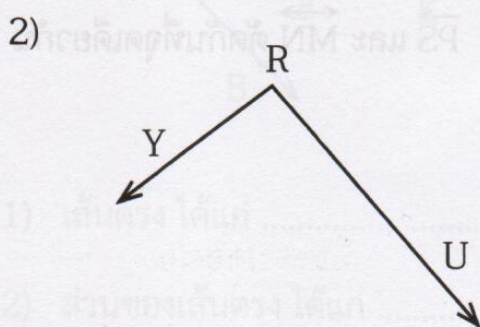


# แบบฝึกหัด 8.4

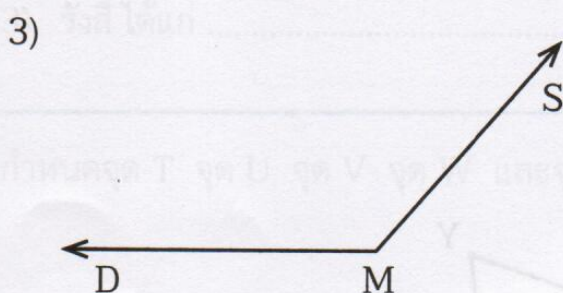
1) เติมคำตอบ



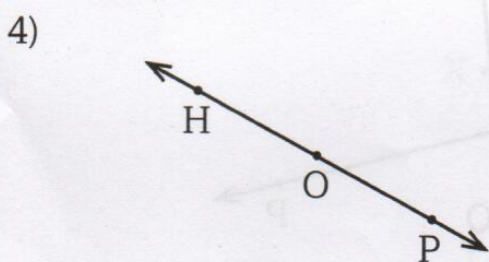
ชื่อมุม .....  
 ชื่อจุดยอดมุม .....  
 ชื่อแขนของมุม .....



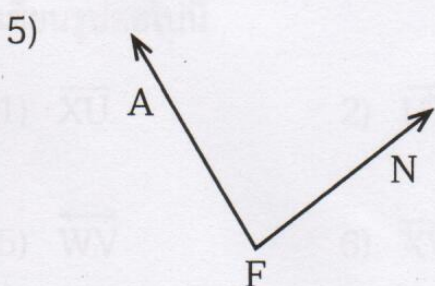
ชื่อมุม .....  
 ชื่อจุดยอดมุม .....  
 ชื่อแขนของมุม .....



ชื่อมุม .....  
 ชื่อจุดยอดมุม .....  
 ชื่อแขนของมุม .....



ชื่อมุม .....  
 ชื่อจุดยอดมุม .....  
 ชื่อแขนของมุม .....



ชื่อมุม .....  
 ชื่อจุดยอดมุม .....  
 ชื่อแขนของมุม .....